

**RALLYE MATHÉMATIQUES MATERNELLE DE SAVOIE
MS MANCHE 2018**

GROUPE N° :

Préconisation

Pour chaque problème, il est nécessaire de fournir du matériel de manipulation aux élèves :

- **Matériel de la classe et de récupération**
- **Matériel fourni en annexe à agrandir si besoin**

Organisation possible dans les ateliers

Problèmes : 2, 4 en présence de l'ATSEM

Problèmes : 1, 6 en présence de l'enseignant

Problèmes : 3, 5 en autonomie

Validation

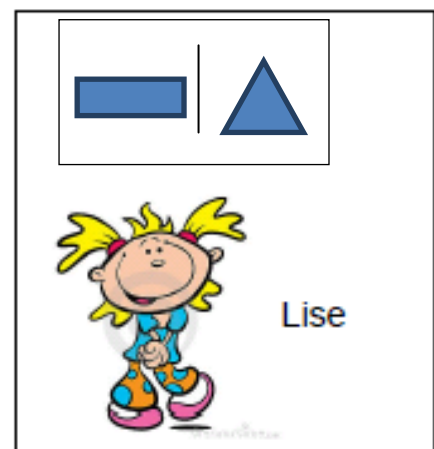
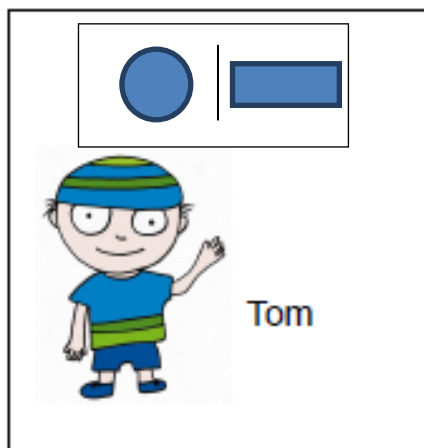
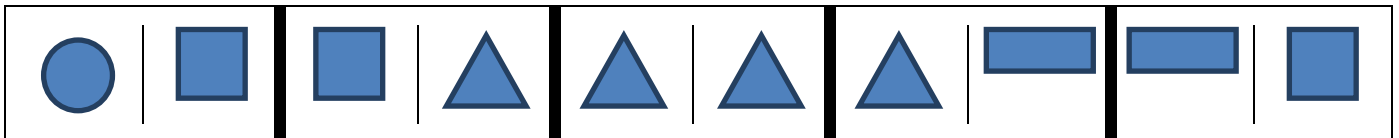
L'adulte devra compléter la fiche de synthèse des scores (fin du document) dès que la réponse du groupe aura été validée (voir critères page 8)

PROBLEME 1 (matériel en annexe)

Range les bandes de papier de la plus courte à la plus longue.


PROBLEME 2 (matériel en annexe)

Qui va gagner la partie ?
Entoure le gagnant.

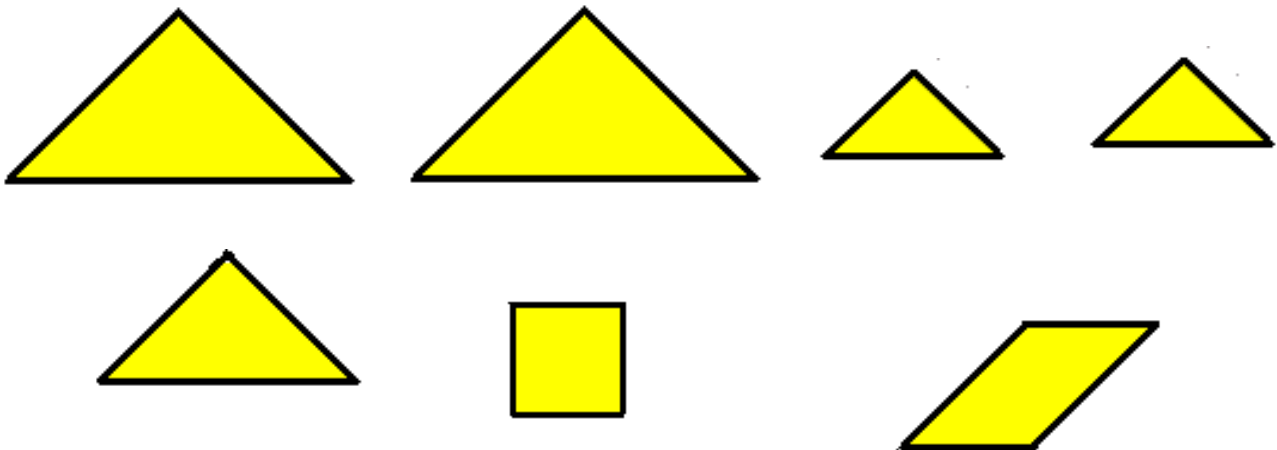


GROUPE N° :

PROBLEME 3 (matériel en annexe)



Entoure le lapin réalisé avec toutes ces pièces.



**RALLYE MATHÉMATIQUES MATERNELLE DE SAVOIE
MS MANCHE 2018**

GROUPE N° :

PROBLEME 4

Matériel à prévoir :

- Une bouteille en plastique de 33 cl
- Une boîte de conserve de 425 ml format bas
- Un entonnoir
- Une cuvette
- Afin d'inciter les élèves à transvaser, la quantité de semoule mise à disposition ne doit pas permettre de remplir les deux récipients en même temps.

Dans lequel de ces 2 objets peut-on mettre le plus de semoule ? Comment as-tu trouvé ?

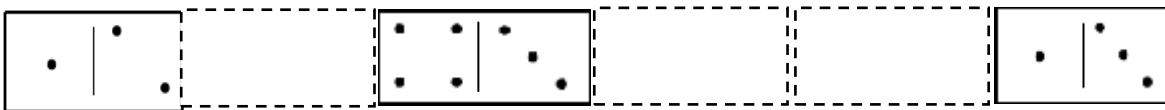


Boîte de conserve 425ml

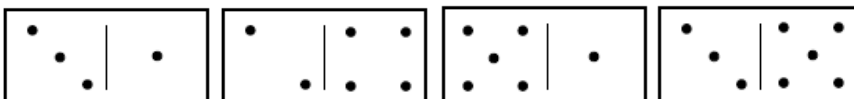


Bouteille d'eau 33cl

PROBLEME 5 (matériel en annexe)









Entoure le domino qui ne sera pas utilisé.



**RALLYE MATHÉMATIQUES MATERNELLE DE SAVOIE
MS MANCHE 2018**

GROUPE N° :

PROBLEME 6 (matériel en annexe)





Colle des moutons pour avoir autant de pattes de moutons que de pattes de poules.
Combien de moutons as-tu collés ?

(L'adulte peut reformuler la consigne si besoin)

GROUPE N° :

ANNEXES
A plastifier si besoin

PROBLEME 1

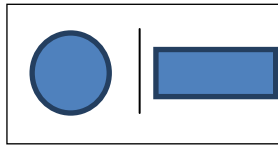
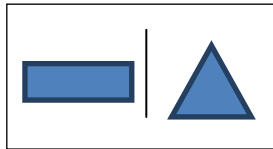
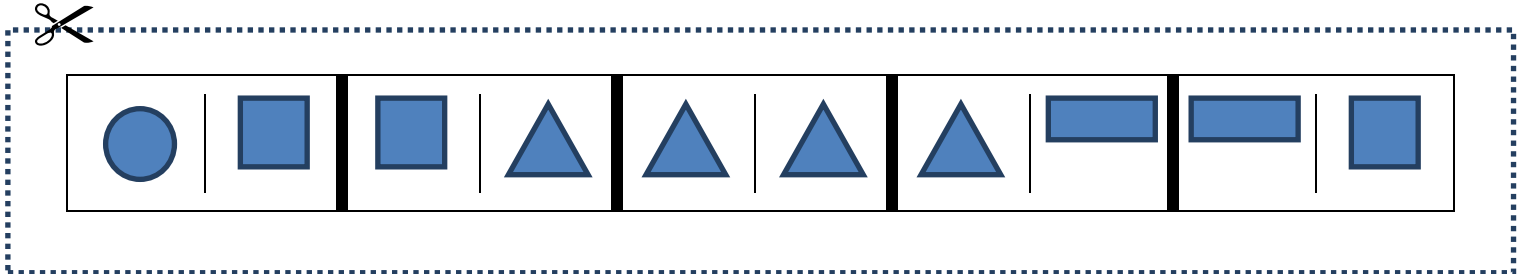


**RALLYE MATHÉMATIQUES MATERNELLE DE SAVOIE
MS MANCHE 2018**

GROUPE N° :

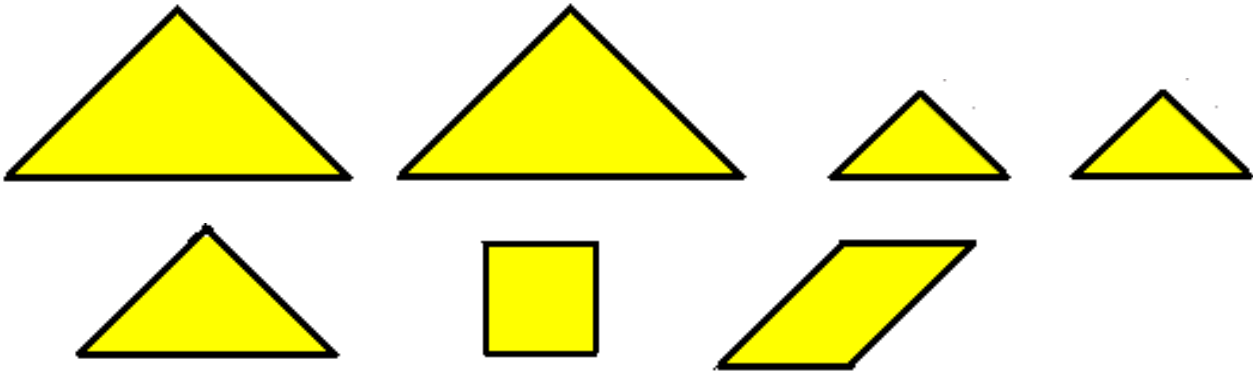
PROBLEME 2

A photocopier en agrandissant.



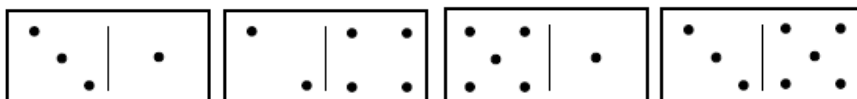
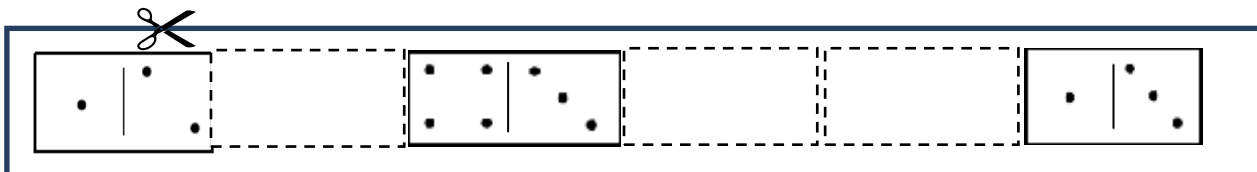
PROBLEME 3

Utiliser les tangrams de l'école ou photocopier en agrandissant



PROBLEME 5









A photocopier en agrandissant.



RALLYE MATHÉMATIQUES MATERNELLE DE SAVOIE
MS MANCHE 2018

GROUPE N° :

PROBLEME 6



**RALLYE MATHÉMATIQUES MATERNELLE DE SAVOIE
MS MANCHE 2018**

GROUPE N° :

Corrections

Pour tous les problèmes, la correction est à prévoir de la manière suivante :

- **La réponse donnée est juste → score attribué 1 → cocher A dans l'application en ligne,**
- **La réponse donnée est erronée → score attribué 0 → cocher B dans l'application en ligne.**

PROBLEME 1

Le groupe obtient 1 point si les bandes sont rangées correctement.

PROBLEME 2

Le groupe obtient 1 point si les élèves ont entouré Tom.

PROBLEME 3

Le groupe obtient 1 point si le lapin du milieu est entouré.

PROBLEME 4

Le groupe obtient 1 point si les élèves expliquent **pourquoi** c'est la boîte de conserve.

PROBLEME 5

Le groupe obtient 1 point si les élèves ont entouré le bon domino.

PROBLEME 6

Le groupe obtient 1 point si les élèves ont collé 3 moutons.

**RALLYE MATHÉMATIQUES MATERNELLE DE SAVOIE
MS MANCHE 2018**

GROUPE N° :

Fiche synthèse des scores de chaque groupe pour la saisie des réponses

	Pb 1	Pb 2	Pb 3	Pb 4	Pb 5	Pb 6
Gr 1						
Gr 2						
Gr 3						
Gr 4						
Gr 5						
Gr 6						
Gr 7						
Gr 8						
Gr 9						
Gr 10						

RAPPEL :

Lors de la saisie des scores dans l'application en ligne, cocher :

- la réponse A pour le score 1
- la réponse B pour le score 0