


10 tâches complexes à décrire

1 - CP

Observe l'image.




Cette famille va au cirque. La caissière rend 9 €.

Combien d'euros la famille lui avait-elle donnés ?

2 - CP

Observe l'image.



Les CP et les CE1 partent en classe de neige. Il y a 47 élèves, 2 maîtresses et 2 moniteurs prévus pour le voyage.

Combien de sièges resteront vides ?

3 – CE1

Sur un bateau qui assure la traversée de Marseille à Calvi, on a embarqué 535 passagers, 18 camions, 84 automobiles, 26 motos et 75 vélos.

- 1) Combien ce bateau transporte-t-il de véhicules à moteur ?
- 2) Combien transporte-t-il de véhicules à 2 roues ?

4 – CE1

Marie, Pierre et Nadia ont 28 ans à eux trois.

Marie a 10 ans.

Pierre a 3 ans de plus que Marie.

Quel est l'âge de Nadia ?

5 – CE2

Sarah, Mélanie et Enzo ont loué une maison de vacances, ce qui leur a coûté 1 250 €. Mélanie a donné 465 €. Enzo a versé 25 € de plus que Mélanie. Sarah a payé la somme restante.

Quelle somme Sarah a-t-elle payée ?

6 – CE2

Les 180 enfants de la colonie de vacances pratiquent tous une et une seule activité de loisir.

Il y a deux groupes : les bouquetins, qui sont 85, et les chamois.


Les enfants font soit du parapente, soit du VTT.


59 enfants font du parapente, dont 28 chamois.

Remplis le tableau :

	Parapente	VTT
Bouquetins		
Chamois		

Observe les documents

Infos pratiques	Théâtre Antique d'Orange
<p>Théâtre Antique et Musée d'Orange Rue Madeleine Roch 84100 ORANGE</p> <p>Horaires</p> <ul style="list-style-type: none"> • janvier, février, novembre, décembre 9 h - 16 h 30 • mars, octobre 9 h - 17 h 30 • avril, mai, septembre 9 h - 18 h • juin, juillet, août 9 h - 19 h <p>Situation Dans le centre-ville d'Orange, à 29 km d'Avignon.</p> <p>Accès</p> <ul style="list-style-type: none"> • autoroutes A7 et A9, sortie Orange centre et suivre les indications. • route Nationale 7, sortie Orange centre et suivre les indications. • bus de la gare SNCF • parking à proximité. 	

<p>Tarifs</p> <p>Plein tarif : 8,00 €</p> <p>Réduit (<i>enfants de 7 à 17 ans, étudiants, invalides, demandeurs d'emploi</i>) : 6,00 €</p> <p>Enfants (<i>moins de 7 ans</i>) : gratuit</p>	<p>Offre familles</p> <p>Une entrée enfant gratuite</p> <p>Pour 3 personnes* payantes d'une même famille.</p> <p>*Adultes ou enfants</p>
	

Combien d'heures le théâtre antique d'Orange est-il ouvert au public chaque jour du mois de mai ? Chaque jour du mois d'août ?

Une famille habitant Arles part visiter le théâtre d'Orange. Elle est composée du père, de la mère et de trois enfants de 5, 8 et 11 ans. Elle passe par Avignon, situé à 37 km d'Arles.

Quelle est la longueur du trajet aller-retour que la famille doit effectuer ?

Combien la famille devra-t-elle payer pour visiter le théâtre d'Orange ?

8 – CM1

Monsieur et Madame Dupommier, Mélanie et Christophe, leurs deux enfants de 12 et 14 ans, doivent aller aux sports d'hiver. De Paris où ils habitent, à Chamonix, il y a environ 600 km et leur voiture consomme 10 litres d'essence pour faire 100 km. Il faut compter 20 euros de péage et 8 euros par personne pour déjeuner sur l'autoroute à l'aller et autant pour le retour. L'essence coûte 1 euro le litre.

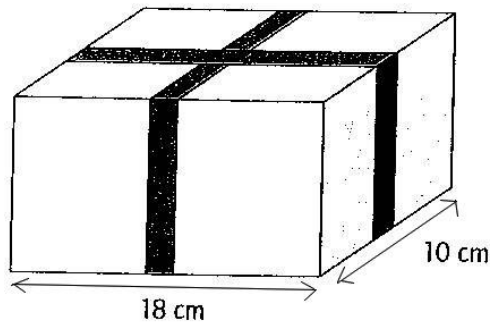
Combien leur coûtera le voyage aller-retour en voiture ?

9 – CM2

Pour soigner sa toux, Farid doit prendre 2 cuillères de 5 ml de sirop, matin, midi et soir pendant 7 jours. Le flacon contient 25 cl de sirop.

Quelle quantité de sirop restera-t-il dans le flacon à la fin du traitement ?

10 – CM2



Pour ficeler cette boîte, il a fallu 120 cm de ficelle, dont 28 cm pour le nœud.

Quel est le volume de cette boîte ?