

SEMAINE DES MATHÉMATIQUES

ENIGME 4 – CYCLE 1

L'aquarium de Julie

Niveau 1



Quel aquarium contient le plus de poissons ?
Réponse : c'est l'aquarium

L'aquarium de Julie

Niveau 2

Julie a fait la liste des poissons de son aquarium. Voici sa liste.

	2
	2
	1
	3

Quel est son aquarium ?







L'aquarium de Julie

Niveau 3



A	
	2
	2
	2
	1

B	
	2
	1
	2
	3

C	
	1
	3
	3
	2

Indique le nom du tableau qui correspond à l'aquarium.
 Réponse : c'est le tableau.....

Matériel

