

SEMAINE DES MATHÉMATIQUES

ENIGME 4 – CYCLE 1

Le jeu des déménageurs

Niveau 1



Boîte de l'équipe 1



Boîte de l'équipe 2





Quelle équipe a gagné le jeu des déménageurs ?

Réponse : c'est l'équipe

Le jeu des déménageurs

Niveau 2

Julie a fait la liste des objets de la boîte de son équipe. Voici sa liste.

	2
	2
	1
	3





Quelle est la boîte de son équipe ?





C'est la boîte ...







Niveau 3



A	
	2
	2
	2
	1

B	
	2
	1
	2
	3

C	
	1
	3
	3
	2

Indique le nom du tableau qui correspond à la boîte.
Réponse : c'est le tableau.....

Matériel

