

**SEMAINE DES MATHÉMATIQUES**  
**ENIGME 1 sprinteurs et couloirs - CP**

Ces 3 coureurs veulent se placer dans leur couloir de course, trouve toutes les solutions possibles.



1



























2



3



**SEMAINE DES MATHEMATIQUES**  
**ENIGME 1 sprinteurs et couloirs - CP**

 <b>1</b>	 <b>1</b>	 <b>1</b>	 <b>1</b>
 <b>1</b>	 <b>1</b>	 <b>1</b>	 <b>1</b>
 <b>2</b>	 <b>2</b>	 <b>2</b>	 <b>2</b>
 <b>2</b>	 <b>2</b>	 <b>2</b>	 <b>2</b>
 <b>3</b>	 <b>3</b>	 <b>3</b>	 <b>3</b>
 <b>3</b>	 <b>3</b>	 <b>3</b>	 <b>3</b>