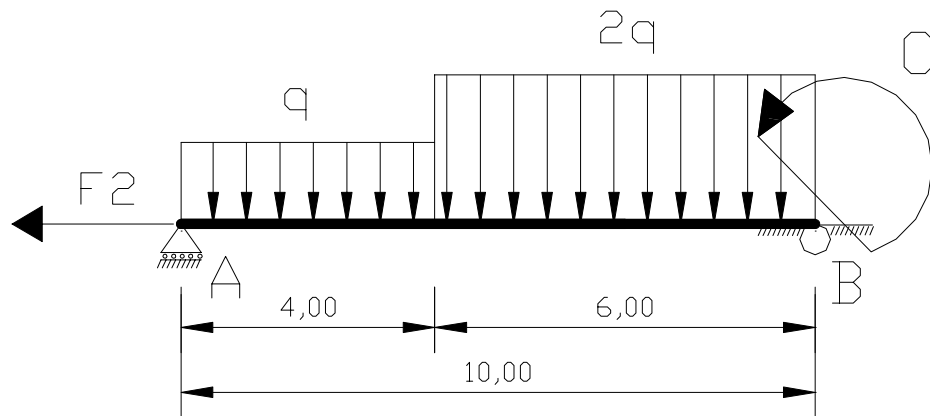
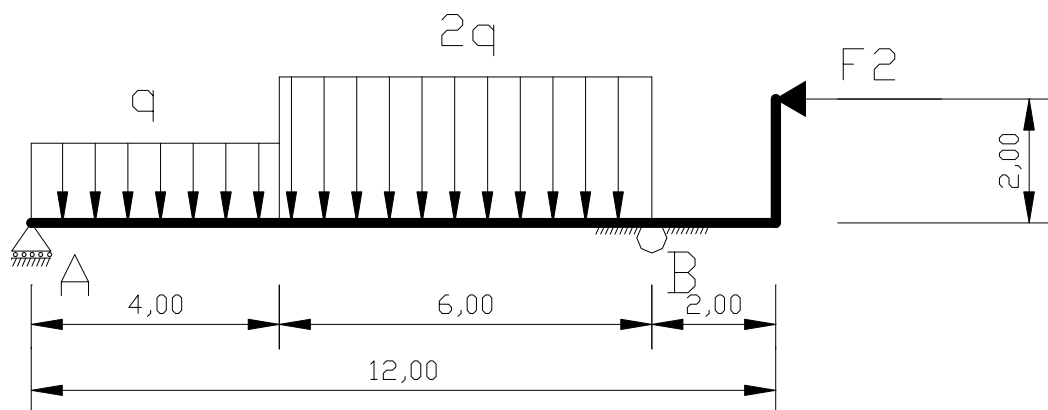


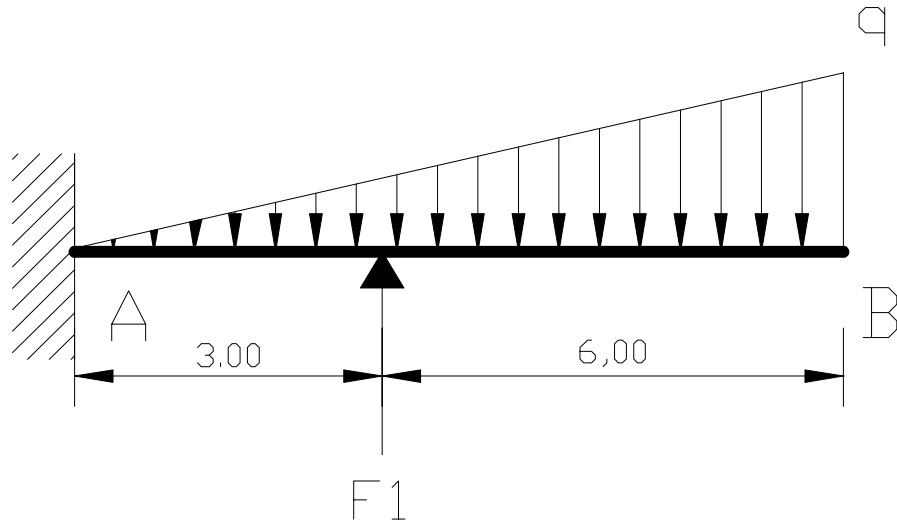
EXERCICE N°3



EXERCICE N°4



EXERCICE N°5



Pour chaque exercice vous devez déterminer les actions aux appuis A et B, en appliquant le P.F.S. avec vigueur.

Effectuer tout d'abord l'application littérale, puis l'application numérique.

Pour chaque exercice :

- $q = 100 \text{ daN/m}$; $F_1 = 15 \text{ KN}$
- $F_2 = 0,0100 \text{ MN}$; $C = 2000 \text{ m.daN}$

BAREME indicatif:

QUESTIONS:	Présentation : 1 Pt	N°1 : /6 points	N°2 : /4 points	N°3 : /3 points	N°4 : /3 points	N°5 : /3 points
------------	---------------------	-----------------	-----------------	-----------------	-----------------	-----------------