

# DEFI MATHS – Circonscription Annemasse 1

## CE1

Total

Nom des équiéiers : \_\_\_\_\_

**1 - Devinette**

**5 points**

Je suis un nombre.  
Mon chiffre des unités est le double de 4.  
Mon chiffre des dizaines est la moitié de 10.  
Mon chiffre des centaines est la moitié de mon chiffre des unités.  
**Qui suis-je?**

Le nombre est          .

**2 – Personnages placés**

**10 points**

**Kid** n'a personne à sa droite.

**Tomy** n'a personne à sa gauche.

**Gamo** est à gauche de Kid.

**Sam** est entre Kid et Gamo.



Écrivez le nom de chaque personnage.

.....

**3 – Au supermarché**

**10 points**

On sait que :

+

+



= 11 €

+

+

= 12 €

Écrivez le prix sur les étiquettes.

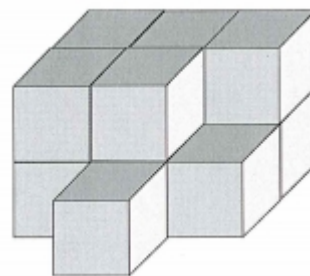


**4 – Cubes****10 points**

Joachim a 5 ans. Il aime jouer avec ses cubes.

**Pour faire cette construction, combien de cubes a utilisé Joachim?**

Joachim a utilisé ..... cubes.

**5 – A la ferme****10 points**

Un fermier a des poules et des lapins.

En regardant tous les animaux, il compte 5 têtes et 16 pattes.

**Combien le fermier a-t-il de poules et de lapins?**

Le fermier a ..... poules et ..... lapins.

**6 – Tâches d'encre****15 points**

Le stylo encre de Zoé a coulé.

**Aidez Zoé à réécrire cette addition posée.**

$$\begin{array}{r}
 7 \quad 2 \quad 9 \\
 + \quad \quad 8 \quad \quad \\
 \hline
 = \quad 9 \quad \quad 2
 \end{array}$$

Complétez l'addition de Zoé :

$$\begin{array}{r}
 7 \quad 2 \quad 9 \\
 + \quad \bigcirc \quad 8 \quad \bigcirc \\
 \hline
 = \quad 9 \quad \bigcirc \quad 2
 \end{array}$$