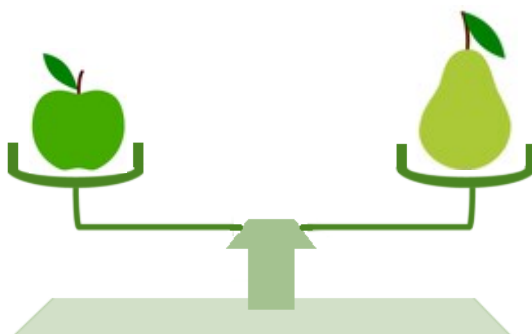
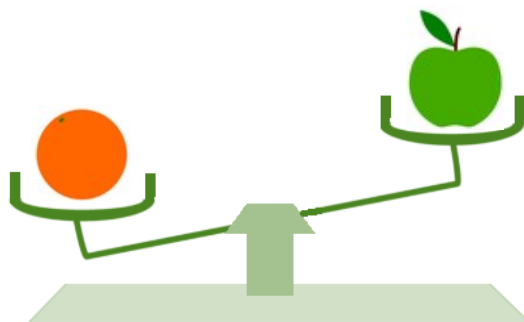
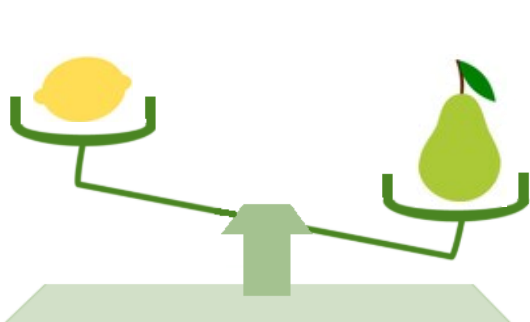


## Les balances

Louanne a pesé plusieurs fruits : une orange, une pomme, une poire et un citron.

En regardant ces balances, peux-tu dire quel fruit est le plus lourd ?



### Aide :

**Pour comprendre comment fonctionne une balance :**

L'objet qui se trouve en bas est l'objet le plus lourd. Quand les deux plateaux sont à la même hauteur, cela veut dire que les deux objets ont le même poids.

