
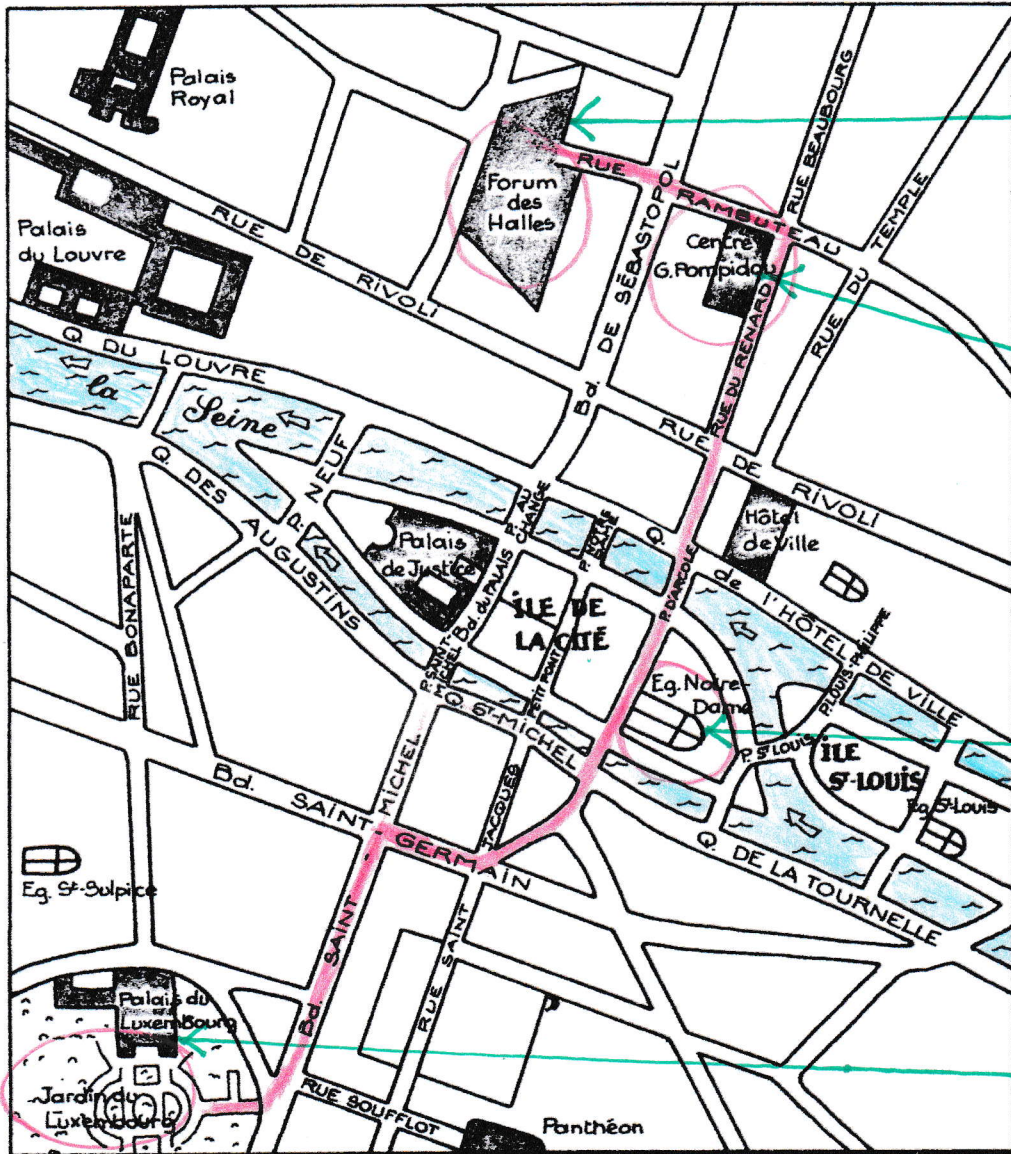



date: _____


Un plan: le centre de Paris



Forum des Halles



Centre G. Pompidou

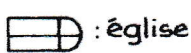


Église Notre-Dame



Palais du Luxembourg

Légende:



: église

: fleuve et pont

: palais

Bd. : Boulevard

Q. : Quai

P. : Pont

1. Reconnais : la Seine - l'île de la Cité - des palais - le Centre Georges Pompidou - Notre-Dame.

2. Examine les photos. Relie par une flèche chacune d'elles à sa place sur le plan.

3. Colorie la Seine en bleu clair. Les flèches indiquent le sens du courant. Cite deux quais rive gauche :

Quai des Augustins, Quai Saint-Michel, Quai de la Tournelle

4. Un touriste visite dans l'ordre : le jardin du Luxembourg, l'église Notre-Dame, le Centre Pompidou et le Forum des Halles. Trace en rouge un itinéraire simple qu'il peut parcourir à pied.

Correction Vendredi