

JE ME TESTE ①

Prénom

Date

CONNAITRE LES UNITÉS DE DURÉES ET LEURS ÉQUIVALENCES

1 Colorie de la même couleur l'événement et l'unité qui convient pour en mesurer la durée.

Une croisière dans les îles.

Une feuille qui tombe de l'arbre.

seconde

minute

Le journal télévisé du soir.


La marée dans l'océan Atlantique.

heure


jour

LIRE L'HEURE


2 Entoure l'horloge qui indique l'heure.



3 Place les aiguilles sur ces horloges.



N'oublie pas que la petite aiguille indique les heures et la grande les minutes.



CONVERTIR LES UNITÉS DE DURÉES

4 Coche la bonne réponse.

- 2 min sont équivalentes à : 120 min 120 s 200 s
- 3 h et 25 minutes sont équivalentes à : 325 min 253 min 205 min
- 600 s sont équivalentes à : 10 min 60 min 6 min
- 90 min sont équivalentes à : 9 min 1 min 30 s 1 h 30 min

CALCULER AVEC DES DURÉES

5 Colorie d'une même couleur les durées égales.

35 sec

45 min + 15 min

35 sec + 35 sec

55 min

1 min 10 sec

2 h 05 min

25 min + 30 min

1 h 50 min + 15 min

15 sec + 20 sec

1 h

DÉTERMINER UN INSTANT

6 À quelle heure se terminent ces trois émissions ?

TF1
Programme
TF1



20:50
Les experts
À la carte
Série-TV (45 min)

france 2
Programme
France 2



21:05
Je vous trouve très beau
Cinéma (1h45)

france 3
Programme
France 3



21:00
Inspecteur Barnaby
Macabres découvertes
Divertissement (1h35)