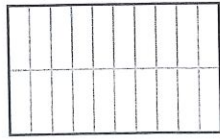


LIRE ET NOMMER DES FRACTIONS

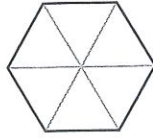
① Partage équitablement les formes suivantes en nombre de parts indiquées.



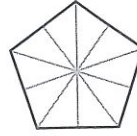
4 parts



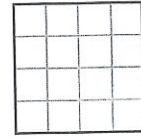
10 parts



3 parts

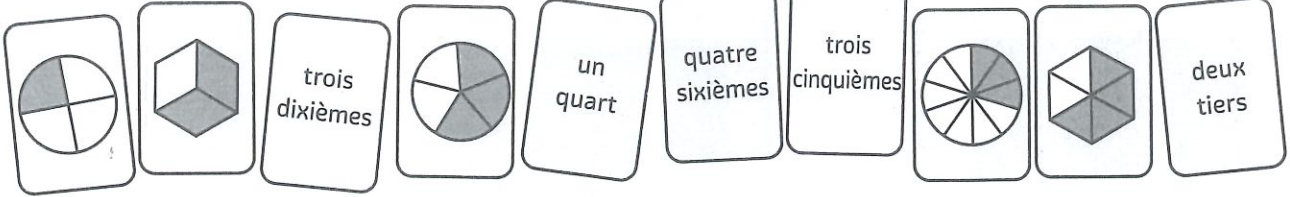


5 parts



8 parts

② Colorie d'une même couleur, la représentation de la fraction et son écriture en lettres.



ÉCRIRE DES FRACTIONS

③ Écris ces fractions en chiffres ou en lettres.

deux tiers → ...

trois quarts → ...

cinq sixièmes → ...

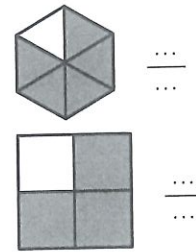
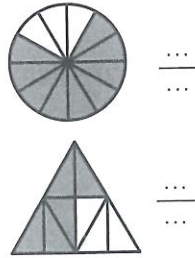
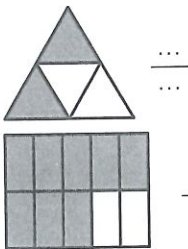
un demi → ...

quatre dixièmes → ...

deux cinquièmes → ...

$\frac{1}{4}$	→	
$\frac{9}{10}$	→	
$\frac{2}{6}$	→	
$\frac{3}{5}$	→	
$\frac{5}{8}$	→	
$\frac{6}{9}$	→	


④ Écris la fraction qui correspond à la partie coloriée.




REPRÉSENTER DES FRACTIONS

⑤ Trace une bande de la longueur que tu souhaites puis colorie la fraction demandée.

$\frac{3}{8}$



$\frac{2}{3}$




$\frac{5}{10}$


$\frac{7}{12}$

UTILISER DES FRACTIONS POUR MESURER

⑥ Trace un segment de 6 cm puis colorie en bleu $\frac{1}{3}$ du segment.






⑦ Trace un segment de 8 cm puis colorie en bleu $\frac{3}{4}$ du segment.




UTILISER DES FRACTIONS POUR PARTAGER

⑧ Partage équitablement ces gâteaux en $\frac{1}{8}$ de différentes façons.



LES MATHS DANS LA VIE

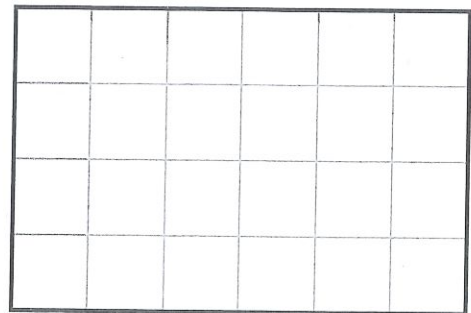
⑨ Marc n'a pas déballé toute sa tablette de chocolat.
Quelle fraction de la tablette est encore dans l'emballage ?



DÉFI

⑩ Le club de kayak de la ville décide de se créer un drapeau. Après la consultation de ses membres, le choix se porte sur la répartition des couleurs suivantes :

- $\frac{1}{2}$ de bleu pour évoquer l'eau ;
- $\frac{1}{4}$ de rouge pour évoquer la couleur des canoés ;
- $\frac{1}{8}$ de vert pour évoquer la nature ;
- $\frac{1}{12}$ de orange pour évoquer les gilets de sauvetage ;
- $\frac{1}{24}$ de jaune pour évoquer le soleil.



Colorie le drapeau en respectant la répartition des couleurs choisie par les membres du club.