

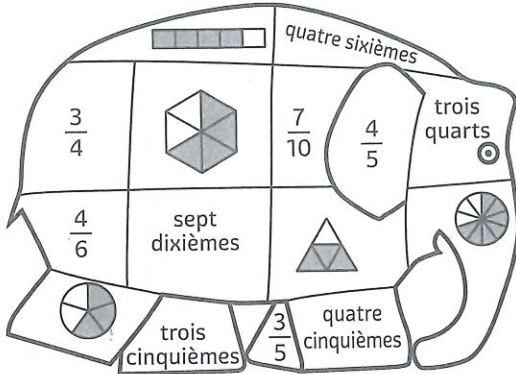
JE ME TESTE 1

Prénom

Date

LIRE ET NOMMER DES FRACTIONS

1 Colorie de la même couleur la fraction écrite en chiffres, son nom en lettres et sa représentation.



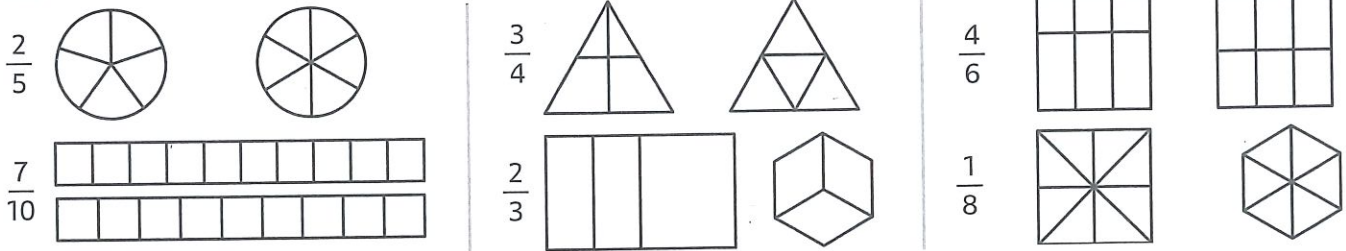
ÉCRIRE DES FRACTIONS

2 Complète le tableau.

.....	$\frac{2}{10}$
cinq sixièmes
.....	$\frac{3}{8}$
un quart
.....	$\frac{3}{7}$
neuf dixièmes

REPRÉSENTER DES FRACTIONS

3 Colorie la fraction demandée en choisissant la bonne unité parmi les deux proposées.



UTILISER DES FRACTIONS POUR MESURER


4 Coche la bonne réponse.

		Vrai	Faux
	La bande grise représente $\frac{3}{4}$ de l'unité.		
	La bande grise représente $\frac{1}{3}$ de l'unité.		
	La bande grise représente $\frac{4}{5}$ de l'unité.		

UTILISER DES FRACTIONS POUR PARTAGER

5 Partage ces pâtisseries en nombre de parts indiqué.


4 parts



8 parts



3 parts



5 parts

