

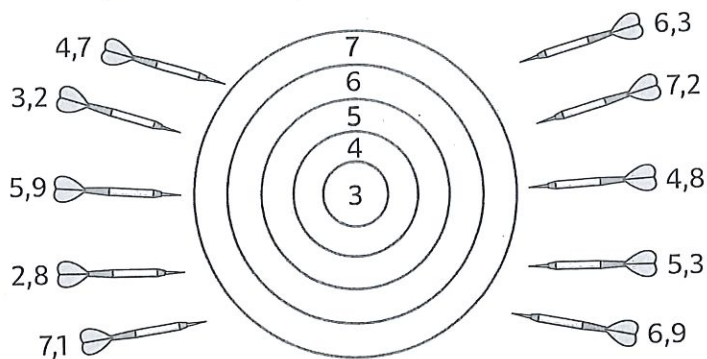
JE ME TESTE ①

Prénom

Date

ARRONDIR DES NOMBRES DÉCIMAUX

1 Trace le trajet des fléchettes pour qu'elles atteignent le nombre arrondi qui leur correspond.



ENCADRER DES NOMBRES DÉCIMAUX

2 Encadre les nombres suivants par des nombres entiers consécutifs.

- < 6,3 < < 4,9 <
 < 3,2 < < 7,8 <
 < 13,6 < < 19,5 <
 < 22,2 < < 38,4 <
 < 7,42 < < 9,38 <
 < 11,68 < < 20,71 <

INTERCALER DES NOMBRES DÉCIMAUX

3 Colorie d'une même couleur le nombre et l'encadrement dans lequel il peut s'intercaler.

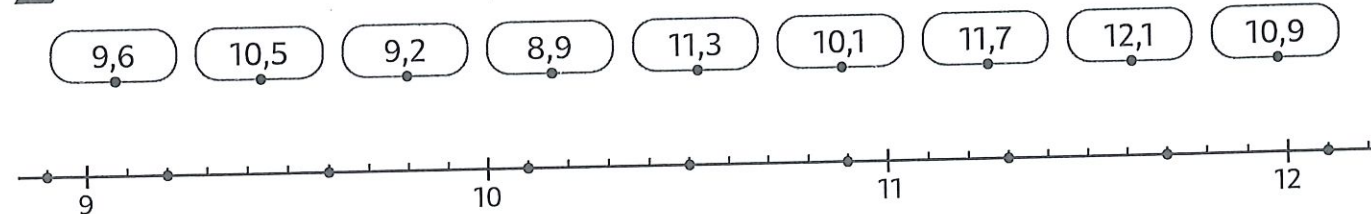
- 4,2 5 < < 6 6,4 8,1 5,7 4,8 7,3 < < 7,6
 4,5 < < 4,9 7,4 7,6 < < 8,4 4,1 < < 4,5 6 < < 7

4 Barre le nombre qui ne peut pas aller dans l'encadrement proposé.

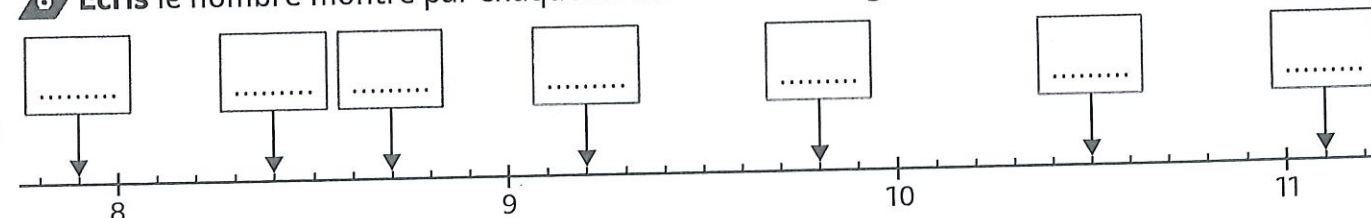
- 6 < 6,5 | 7,8 < 7 2 < 2,3 | 3,2 < 3 9 < 8,9 | 9,8 < 10
 14 < 13,7 | 14,2 < 15 4,2 < 4,6 | 4,8 < 4,7 11,5 < 11,4 | 11,6 < 11,9
 8,5 < 8,7 | 8,9 < 8,8 1,5 < 1,9 | 1,6 < 1,7 13,8 < 13,9 | 14,1 < 14

PLACER DES NOMBRES DÉCIMAUX SUR UNE DROITE GRADUÉE

5 Relie les nombres à leur place indiquée par un point sur la ligne graduée.



6 Écris le nombre montré par chaque flèche sur la droite graduée.



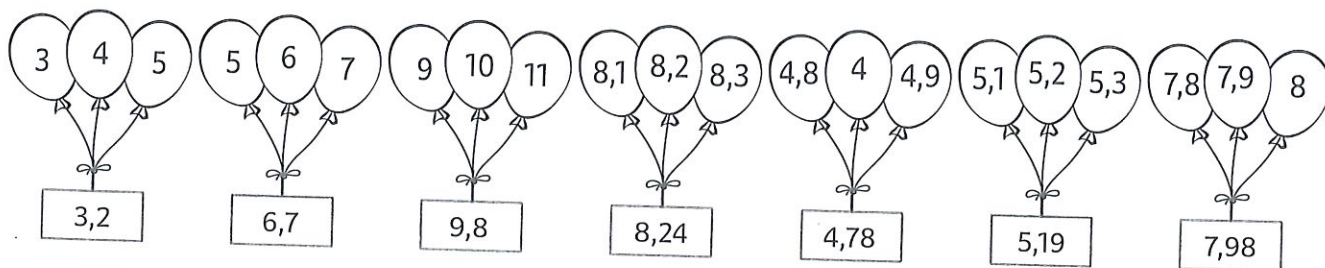
JE ME TESTE ②

Prénom

Date

ARRONDIR DES NOMBRES DÉCIMAUX

1 **Perce** les ballons en les barrant pour ne garder que celui qui donne le nombre arrondi le plus proche du nombre écrit sur l'étiquette.



ENCADRER DES NOMBRES DÉCIMAUX

2 **Encadre** les nombres suivants au dixième près.

..... < 7,26 <

..... < 9,96 <

..... < 11,854 <

..... < 3,15 <

..... < 27,06 <

..... < 19,793 <

..... < 6,89 <

..... < 4,637 <

..... < 14,915 <

..... < 14,37 <

..... < 8,207 <

..... < 20,473 <

INTERCALER DES NOMBRES DÉCIMAUX

3 **Coche** la bonne réponse.

Vrai Faux

8,34 s'intercale entre 8 et 9

2,29 s'intercale entre 2,1 et 2,2

7,86 s'intercale entre 7,8 et 7,9

9,97 s'intercale entre 9,9 et 10

5,47 s'intercale entre 5,3 et 5,4

4 **Écris** un nombre décimal dans l'encadrement.

6 < < 7

14 < < 15

8,5 < < 8,8

2 < < 3

4,2 < < 4,7

1,5 < < 1,6

9 < < 10

11,5 < < 11,9

13,8 < < 14

2,3 < < 2,4

PLACER DES NOMBRES DÉCIMAUX SUR UNE DROITE GRADUÉE

5 **Relie** ces nombres décimaux à leur place sur la droite graduée.

9,26

9,05

9,4

9,51

9,47

9,89

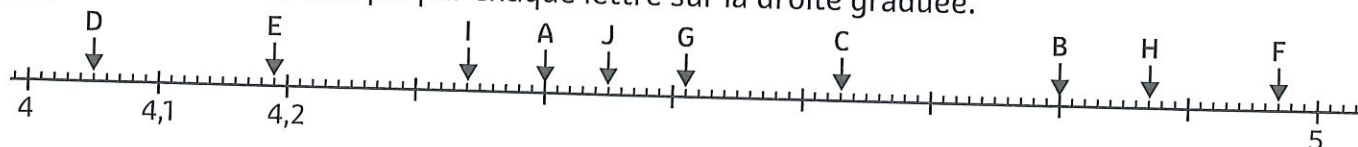
9,7

10,02

9,94



6 **Écris** le nombre indiqué par chaque lettre sur la droite graduée.



A :

C :

E :

G :

I :

B :

D :

F :

H :

J :