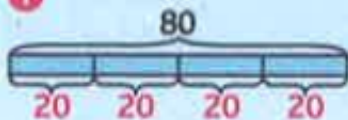
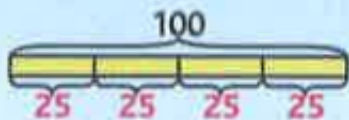


①



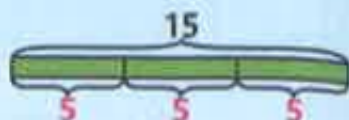
La moitié de 80,  
c'est 40.

Le quart de 80,  
c'est 20.



La moitié de 100,  
c'est 50.

Le quart de 100,  
c'est 25.



Le tiers de 15,  
c'est 5.

Les deux tiers de 15,  
c'est 10.

②

Moitié ou demi	12	16	40	100	500
Quart	6	8	20	50	250

③ Le tiers de 60, c'est 20. Un tiers-temps dure 20 minutes.

④ J'ai une ligne complète (10, 11, 25)  Oui  Non