

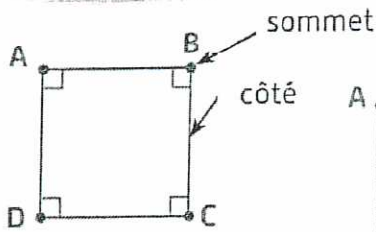
Calcul mental : Soustractions du type $du - 8$ avec franchissement de dizaine.
Ex. : $12 - 8$; $22 - 8$.

T B

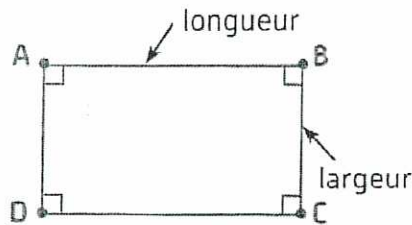


Je comprends

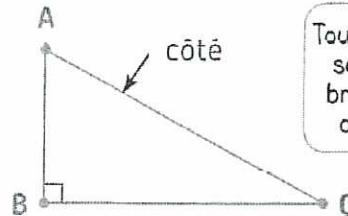
Activité de découverte : Classement de figures planes.



Le **carré** a
4 côtés égaux
et 4 angles droits.



Le **rectangle** a 4 angles droits.
Ses côtés opposés sont égaux.



Le **triangle rectangle**
a 3 côtés et 1 angle droit.

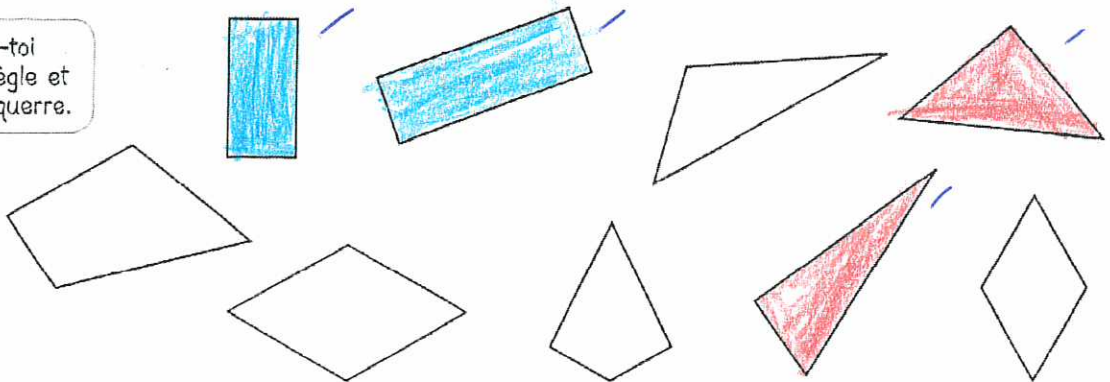
Toutes ces figures
sont des lignes
brisées fermées
ou polygones.



Je m'entraîne

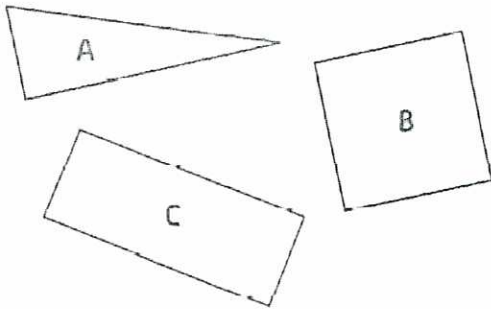
1 Colorie les rectangles en bleu et les triangles rectangles en rouge.

Aide-toi
d'une règle et
d'une équerre.



oui

2 Complète le tableau.

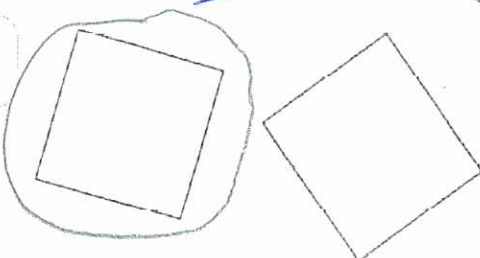



oui

	Nom du polygone	Nombre de côtés	Nombre de sommets
A	triangle-rectangle	trois	trois
B	carré	quatre	quatre
C	rectangle	quatre	quatre

3 Entoure le carré.

Utilise
ta règle.



4 Écris le nombre de triangles rectangles que tu vois dans ce triangle :

2 oui

